

מבדק במתמטיקה, תחילת שנה"ל תשע"ב

שכבה ב'

שם פרטי: _____ שם משפחה: _____

בהצלחה !

(1) כתבו במלים :

52

(2) כתבו במספרים :

שמונים

פתרו :

$3 + 5 = \square$ (3)

$4 + 6 = \square$ (4)

$9 - 5 = \square$ (5)

$16 - 15 = \square$ (6)

$14 - 7 = \square$ (7)

$20 + 30 = \square$ (8)

כתבו את הסימן המתאים (< , > , =) :

24 _____ 42 (9)

50 _____ 0 + 50 + 0 (10)

(11) לרמי 16 מדבקות. הוא נתן 6 מדבקות לאחותו.
כמה מדבקות נשארו לרמי ?

תשובה: מדבקות

(12) לדני יש 8 גולות וללימור יש 6 גולות.
כמה גולות יש לשניהם ביחד ?

תשובה: גולות

(13) השלימו ספרה כך שיתקבל מספר אי זוגי:

14) רון קנה קלמר ב- 8 שקלים.
רון נתן למוכר שטר של 20 שקלים.
כמה עודף קיבל רון?

תשובה: שקלים

15) שרה קטפה 9 פרחים לבנים, 2 פרחים צהובים ו- 5 פרחים אדמים.
כמה פרחים קטפה שרה?

תשובה: פרחים

השלימו:

$$\boxed{} + 14 = 18 \quad (16)$$

$$20 - \boxed{} = 1 \quad (17)$$

פתרו:

$$13 - 2 + 5 = \boxed{} \quad (18)$$

19) השלימו את הסדרה הבאה בקפיצות שוות:

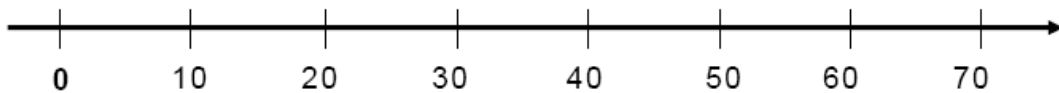
88 , 86 , 84 , _____ , _____ , 78 , _____ , _____

20) מתחיו קו מכל מספר אל המקום המתאים (בערך) על ישר המספרים:

29

2

15



21) הקיפו את התרגיל שהתוצאה שלו קטנה מ- 10:

א. $20 - 10$ ב. $20 - 11$ ג. $20 - 9$ ד. $20 - 1$

כיצד אפשר לדעת באיזה תרגיל התוצאה תהיה קטנה מ- 10,
מבלי לחשב את התוצאות של כל התרגילים?

22) כתבו תרגילים מתאימים לציור:



תרגיל חבור: _____ + _____ + _____ + _____

תרגיל כפל מתאים: _____ × _____

23) פתרו:

א. $4 \times 3 = \square$

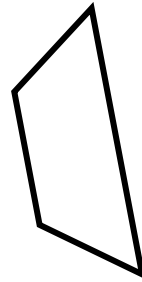
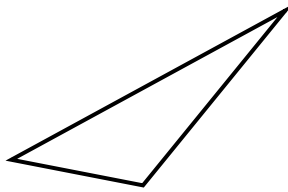
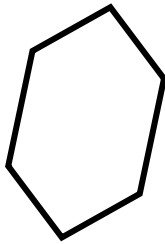
ב. $10 : 2 = \square$

24) הקיפו את המצולע:

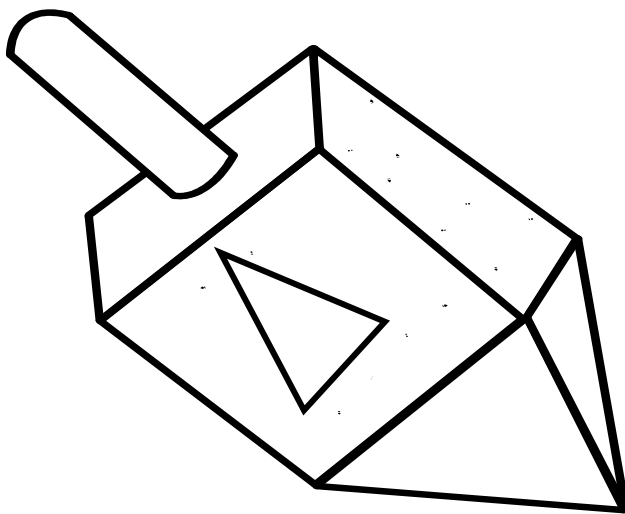


25) בְּמַחְסוֹן הַמְּלִים יֵשׁ שְׁמוֹת שֶׁל מְצוּלָעִים שׁוֹנִים.
 הִתְאִימוּ שֵׁם לְכָל אֶחָד מֵהַמְצוּלָעִים הַבָּאִים מִתּוֹךְ מַחְסוֹן הַמְּלִים:

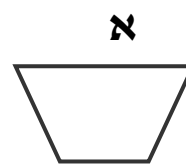
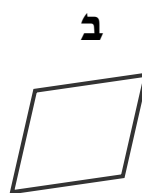
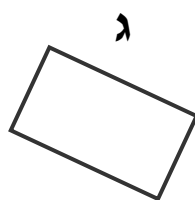
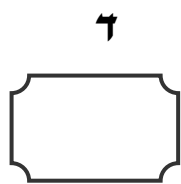
מַחְסוֹן מְלִים: מְשֻׁלֵּשׁ, מְרֻבָּע, מְחֻמָּשׁ, מְשֻׁשָׁה



26) צַבְעוּ אֶת כָּל הַמְּשֻׁלָּשִׁים שֶׁבְּצִיּוֹר:



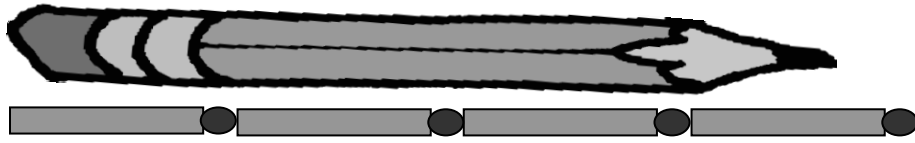
27) הקיפו את המלבן:



28) סרטטו קטע קצור יותר מהקטע שבסרטוט:



29) רינה מדדה את ארך העפרון בעזרת גפרורים.




היא אמרה: ארך העפרון 4 גפרורים בדיוק.

האם רינה צודקת? _____


נמקו: _____

30. הקיפו את הציור שהצפורים בו התקבלו משקוף.

ד



ב



א

